

ただしいものに ^{まる}○ を つけたり、せんを ひいたりして こたえよう。



ぼうしが 5こ あるよ。 3こ かうよ。
のこりは なんこかな？

2こ

1こ

^{しかく}□ に はいる ことばは どちらかな？

まわる。

ぐるぐる

ころころ

①の ^{しかく}■ に ある ものは どちらかな？

①			
②			

しかく
 に はいる かぞえかたは どちらかな？

のりものけんを
 4 かう。


のりものけん 1かい


まい だい


どちらが ながいかな？
 はたと はたの あいだの ながさは おなじだよ。


おなじ なかまは どちらかな？

この 3つの かたちを つかって できる
 かたちは どちらかな？

「まる→しかく→しかく」の じゅんに
 ならんでいるよ。  に はいるのは どちらかな？







しまじろうが ついた じかんの とけいを えらぼう。


10じに もんが あくよ。
 ぼくたちは ちょっと
 まえに ついたよ。






ひみつの てがみに かいてある たからものを えらぼう。


「た」を ぬいて
 よもう！


<かくされた たからもの>
 ほたしの たかざりの かたぎ



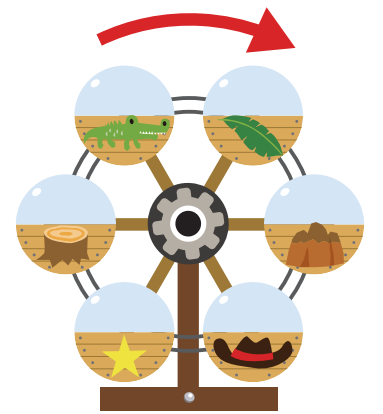












かんらんしゃが やじるしの おきに まわっているよ。
 ひだりの えと おなじ かんらんしゃを えらぼう。



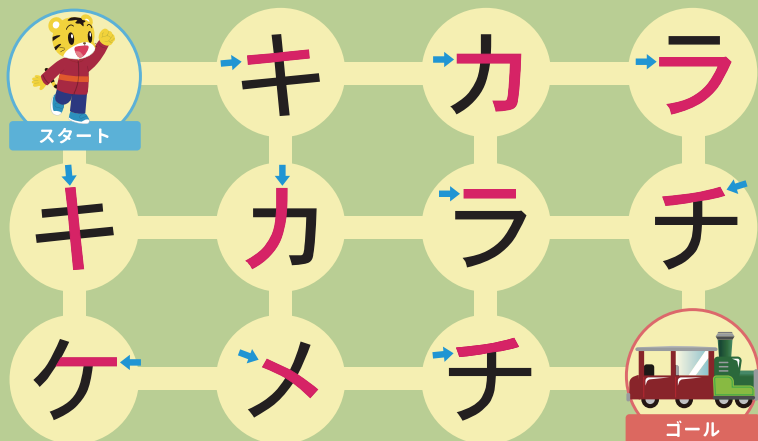









かきはじめが 正しい もじの ところを ぜんぶ
 とおって スタートから ゴールまで すすもう。



あさから のりものに のったよ。
 いちばん さきに のりものに のった こを えらぼう。



この 3つの かたちを つかって できる
 かたちは どちらかな？



「しかく→まる→まる」の じゅんに
 ならんでいるよ。□に はいるのは どちらかな？

