

ただしいものに  $\bigcirc$  を つけたり、せんを ひいたりして こたえよう。




さかなの かずは いくつかな？





5

6


かげと おなじ かたちは どちらかな？







えに あう ことばは どちらかな？



いか

りか

かげと おなじ かたちは どちらかな？



おおきさを くらべよう。  
□<sup>しかく</sup>に あう ことばは どちらかな？



← ちいさい


おいしい

おおきい

かげと おなじ かたちは どちらかな？



とまと  
トマトの かずは いくつかな？



5

6

かげと おなじ かたちは どちらかな？

「おおきい」の はんたいの いみの ことばは どれかな？  
しかくに あう ことばを えらぼう。

すくない  
 ながい  
 ちいさい

さんかくの ところだけを ぜんぶ とおって  
すたあとから ごうるまで すすもう。

「きいろ→みどり→あお」の じゅんばんに ひとでを ならべるよ。  
しかくに あう ひとでを えらぼう。

☆ ☆ ☆


ひだり から 3ばんめの いきものを えらぼう。

ひだり みぎ

ちょうせん！ ひとでが いない みちを ぜんぶ 1かいだけ  
とおって すたあとスタートから ごうるゴールまで すすもう。

スタート	★	★	★	★	★
	★	★			★
					★
★	★				
★	★	★	★	★	
★	★	★	★	★	ゴール

えに あう ことばは どちらかな？



かさ

かき

かげと おなじ かたちは どちらかな？

