


ただしいものに ^{まる}○を つけたり、せんを ひいたりして こたえよう。




さかなの かずは ぜんぶで いくつかな？




9 8

えに あう ことばは どちらかな？





かぼちゃ かぼちよ

えに あう かげは どちらかな？



Two identical black silhouettes of a birthday cake with candles.

おなじ なかまは どちらかな？






ただしい とけいは どちらかな？

9じ はん



えに あう かげは どちらかな？



ただしい かきはじめは どちらかな？

4



「ひとで→かい→かい」の しかくじゅんばんで ならんで
いるよ。□にはいる えは どちらかな？

が お が おさんの すいとうを えらぼう。

あかと しろの
みずたまもようの
すいとうだよ！

7は 4と いくつに わけられるかな？ しかく□にはいる
かずの くみあわせを えらぼう。

4 ●●●●	と	2 ●●
4 ●●●●	と	3 ●●●
4 ●●●●	と	4 ●●●●

7

しかく□にはいる か た か なを えらぼう。

く ま の み

マ ノ ミ

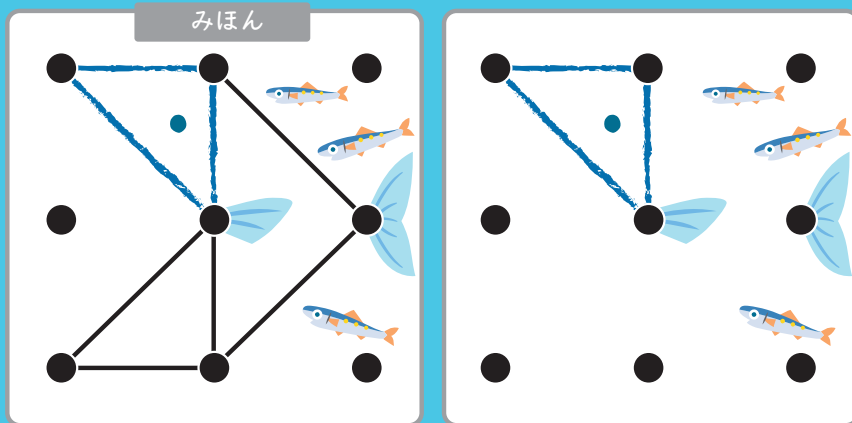
フ

タ

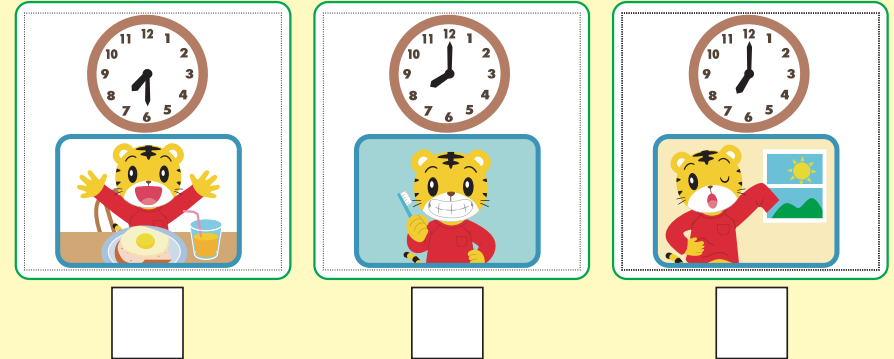
ワ

ク

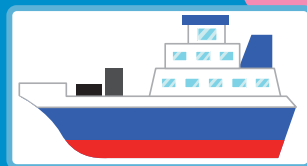
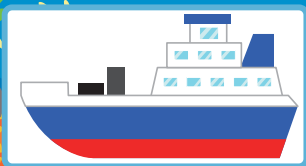
みほんと おなじに なるように せんを つなごう。



ちょうせん! ある ひの あさの とけいの じゅんばんが
ただしく なるように すうじを に かこう。



かげに あう えは どちらかな?



ただしい かきはじめは どちらかな?

せ

↓
せ

→ せ